



Bei welcher Zahl waren die Zeiger zuletzt?



Minutenzeiger: 7
Stundenzeiger: 1



Minutenzeiger:
Stundenzeiger:



Minutenzeiger:
Stundenzeiger:



Minutenzeiger:
Stundenzeiger:



Minutenzeiger:
Stundenzeiger:



Minutenzeiger:
Stundenzeiger:





Minutenzeiger:
Stundenzeiger:



Minutenzeiger:
Stundenzeiger:

Streiche die falsche Uhr durch und erkläre, warum sie falsch ist!





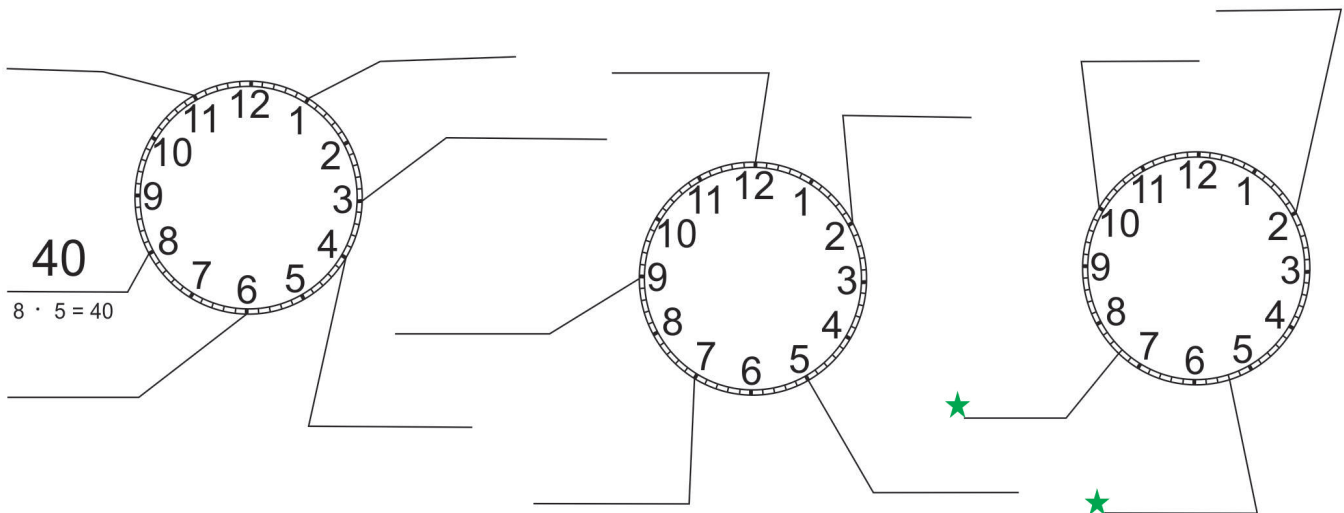
Wiederhole das Einmaleins mit 5

$$\begin{aligned} 6 \cdot 5 &= \\ 9 \cdot 5 &= \\ 7 \cdot 5 &= \\ 3 \cdot 5 &= \\ 10 \cdot 5 &= \end{aligned}$$

$$\begin{aligned} 3 \cdot 5 &= \\ 2 \cdot 5 &= \\ 12 \cdot 5 &= \\ 4 \cdot 5 &= \\ 8 \cdot 5 &= \end{aligned}$$

$$\begin{aligned} 1 \cdot 5 &= \\ 11 \cdot 5 &= \\ 0 \cdot 5 &= \\ 7 \cdot 5 &= \\ 5 \cdot 5 &= \end{aligned}$$

Wie viele Minuten sind seit der letzten vollen Stunde vergangen?



Wiederholung: Schreibe in das Kästchen die passende Stunde!



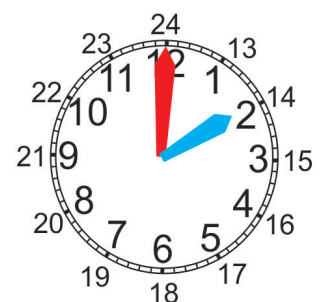
Vormittag:
Nachmittag:



Vormittag:
Nachmittag:



Vormittag:
Nachmittag:



Vormittag:
Nachmittag:



Tipp: Auf welcher Zahl war der Stundenzeiger als letztes?



3:30

ODER

15:30



ODER



ODER



ODER



ODER



ODER



ODER



ODER



ODER



ODER



ODER



ODER



ODER



ODER



ODER



ODER